

2 – De reis

Na lang wikken en wegen is de keuze gevallen op camping Duinhoeve.

De reis naar Renesse gaat met het openbaar vervoer.

Vanaf treinstation Roosendaal kun je met de bus via Zierikzee naar het transferium in Renesse. Vanaf daar gaan in het seizoen (mei t/m september) gratis busjes naar de campings.



8. Jullie vertrekken met zijn vieren vanuit Roosendaal. De reisplanner van de NS geeft de volgende informatie voor de reis van Roosendaal naar het transferium in Renesse.

Mogelijke reistijden

Vertrek →	Aankomst	Overstap	Reistijd	
08:46 →	10:33	1	1:47	→
09:46 →	11:22	2	1:36	→
10:46 →	12:22	2	1:36	→
10:46 →	12:33	1	1:47	→
11:46 →	13:22	2	1:36	→

- a. Om de hoeveel tijd kan je vertrekken?

- b. Wat is waar?



De totale reistijd als je vertrekt om 9:46 is 136 minuten

waar/onwaar



De totale reistijd als je vertrekt om 9:46 is 96 minuten

waar/onwaar



9. Jullie besluiten de trein om 9:46 te nemen. Het reisschema ziet er dan zo uit:

 Tijd	Station / Halte	Spoor	Richting	Reisdetails
09:46	Roosendaal	3a	Vlissingen	Stoptrein 
10:22	Goes	1		


→ Toon tussenstations


 Tijd	Station / Halte	Spoor	Richting	Reisdetails
10:33	Busstation NS, Goes		Zierikzee	Bus (132) 
10:56	Sas, Zierikzee			

→ Toon tussenhaltes

 Tijd	Station / Halte	Spoor	Richting	Reisdetails
10:58	Sas, Zierikzee		Renesse	Bus (133) 
11:21	Transferium, Renesse			

→ Toon tussenhaltes

Prijs voor deze reis 	2 ^e klas		1 ^e klas	
	vol tarief	reductie	vol tarief	reductie
Enkele reis	€ 8,30	€ 5,00	€ 14,10	€ 8,50
Dagretour	€ 15,60	€ 9,40	€ 26,50	€ 15,90

[Koop kaartje](#) 

→ Toon uitgebreid prijsadvies → Bekijk een demo van de kaartautomaat

Overige OV Prijzen		
Traject	Strippen	Prijs ¹⁾
Busstation NS, Goes → Transferium, Renesse	9 strippen	€ 4,38

¹⁾ Prijs is gebaseerd op een standaard 15 strippenkaart.

a. Hoelang duurt de reis met de trein en hoelang zit je in totaal in de bus?

In de trein: minuten

In de bus:minuten

UITLEG

Bij rekenen met tijd kun je niet zomaar de rekenmachine gebruiken. Als je intypt $10.22 - 9.46$ krijg je als antwoord niet het aantal minuten dat je in de trein zit.



10. Reizen met trein en bus kost natuurlijk geld.

a. Wat kost een treinkaartje voor deze reis?

- €8,30
- €5,00
- €9,60
- €10,40

Toelichting:

b. Wat zijn de totale kosten voor de trein en de bus voor jullie samen?

c. Op een standaard buskaart zitten 15 strippen. Hoeveel strippenkaarten hebben jullie samen nodig?

- 1 strippenkaart
- 2 strippenkaarten
- 3 strippenkaarten
- 4 strippenkaarten

11. Extra opdracht

Gebruik www.ns.nl of www.ov9292.nl om vanuit je eigen woonplaats de reis naar Renesse te plannen. Je wilt daar om 14:00 aankomen.

Print het reisadvies en geef de volgende informatie

- Met welke vervoermiddelen reis je?
- Hoe lang duurt de reis in totaal?
- Wat kost de reis per persoon (met en zonder korting)?